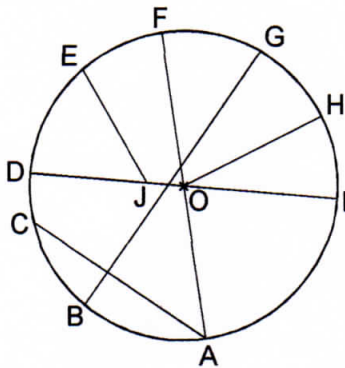


Nom : _____ Date : _____

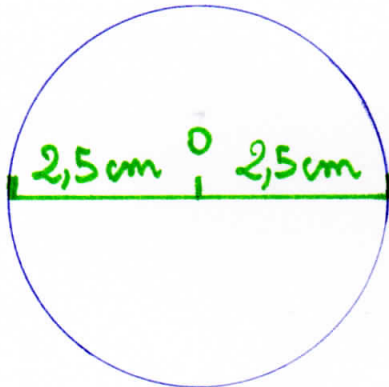
1 Observe la figure et nomme :



a. le centre du cercle :

O

2 Trace un cercle de centre O et de diamètre 5 cm.



b. tous les diamètres : FA ou AF, DI ou ID;

c. tous les rayons : IO, HO, GO, FO, EO, DO, CO, BO, AO

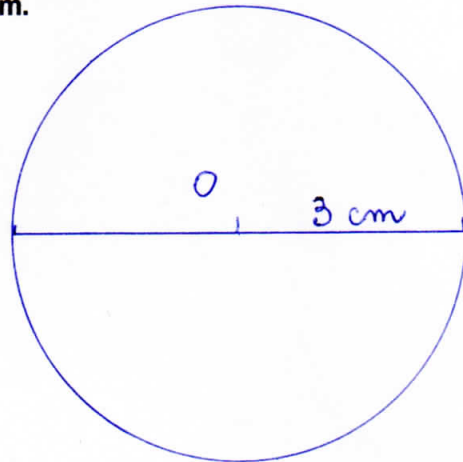
d. Quelle est la mesure du rayon de ce cercle de centre O ?

2 cm

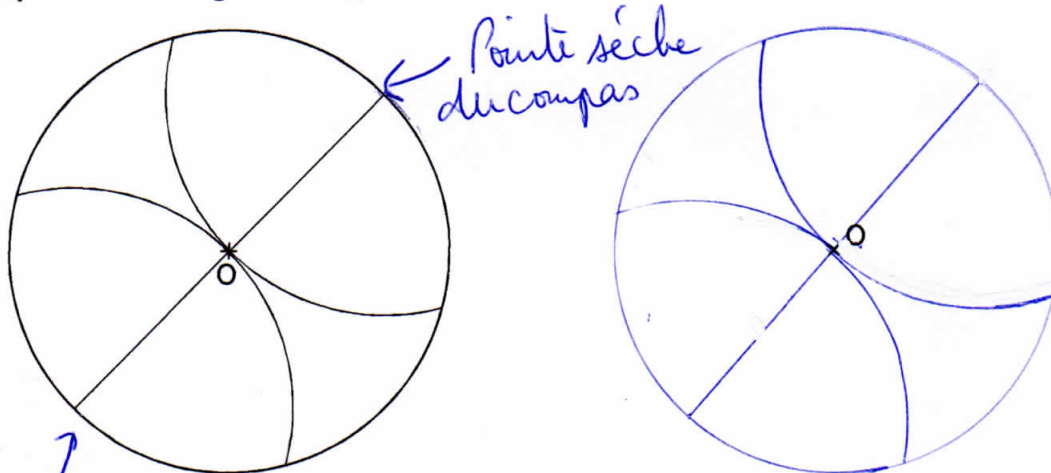
e. Quelle est la mesure du diamètre de ce cercle ?

4 cm (2 fois le rayon)

3 Trace un cercle de centre O et de rayon 3 cm.



4 Reproduis cette figure en respectant les mesures.



Pointe sèche du compas

Pointe sèche du compas et écartement de 3 cm (mesure du rayon)